

Nr:	Navn:	Flokkur:
Skúli:	Umsjónarfólk:	

**Frátáringarroynd fólkaskúlans
Maí - Júní 1998**


Rokning/stöddfræði

**Fimis-
rokning**

1 tími

1	$1027 + 281$	= _____	3	$2419 \cdot 9$	= _____
2	$306 - 257$	= _____	4	$612 : 18$	= _____
5	$16\frac{1}{2} + 3\frac{3}{4}$	= _____	7	$3,2 \cdot 1,7$	= _____
6	$6,75 - 2\frac{1}{2}$	= _____	8	$5,4 : 0,9$	= _____
9	35 dl	= _____ l	11	2 t 175 kg	= _____ kg
10	250 cm^3	= _____ l	12	31,4 dm	= _____ m

- 13 Avslátturinn er _____ kr
 14 Avslátturinn er _____ %

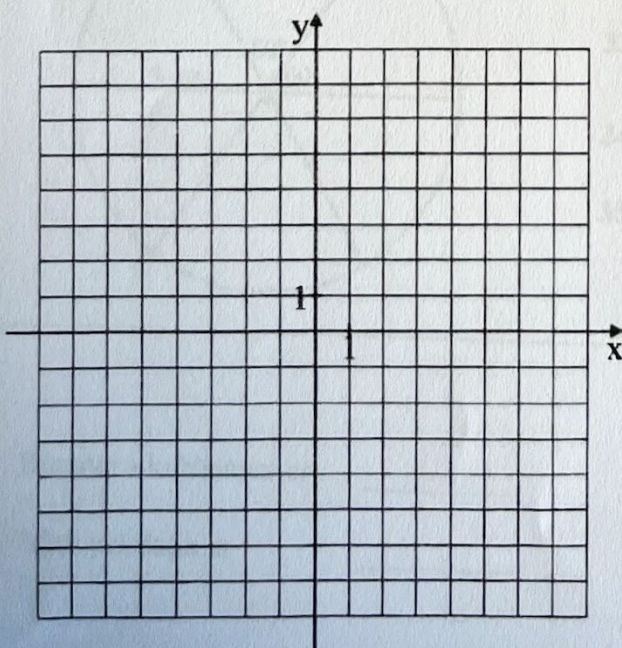


Runda til 1 desímál:

- 15 $42,284 \approx$ _____
 16 $5,051 \approx$ _____

Loys líkningarnar:

- 17 $3x - 6 = 9$ $x =$ _____
 18 $4(x - 9) = -32$ $x =$ _____



Ein linja hefur forskriftina: $y = \frac{3}{4}x + 3$

19 Tekna linjuna.

20 Halltalið hjá linjuni er _____

Linjan sker x-ásinn í A og y-ásinn í B.

21 Longdin á AB er _____ ^{cm} ~~cm~~

22 $\frac{2}{3}$ av 120 = _____

23 20% av 4500 = _____

Umstytt:

24 $3(2a+2) - 2(a+3) =$ _____

25 $-2+3(2-b) - (-2+b) =$ _____

Íbúgvatal í Tórshavnar kommunu 31.12.1996

Aldur	Mann- fólk	Konu- fólk
0 - 6	982	943
7 - 14	963	919
15 - 24	1053	965
25 - 65	4110	4012
66 →	672	943
Tilsamans	7780	7782

26 Í hvørjum aldursbólki eru fleiri konufólk enn mannfólk?

27 Hvussu nógvir árgangir eru í bólkinum 15 - 24?

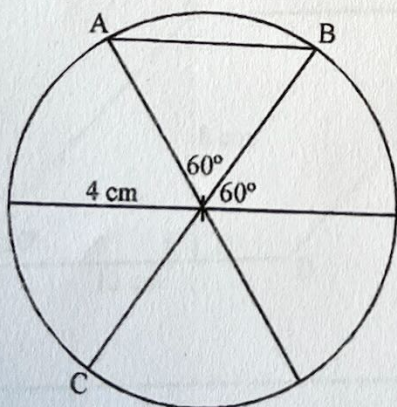
28 Er aldursbólkurin 66 → (mannfólk + konufólk) um leið 10%, 20% ella 30% av íbúgvatalinum tilsamans?
_____ %

29 $\sqrt{4 \cdot 36} =$ _____

30 $3^2 \cdot 3^3 =$ _____

31 $3 \cdot 2\frac{4}{5} =$ _____

32 $3 : \frac{1}{3} =$ _____



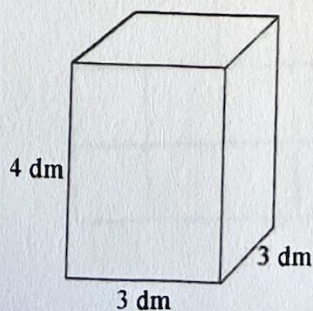
33 Strika $\frac{1}{3}$ av víddini á sirklinum.

34 Hvussu long er AB? _____

35 Hvussu long er BC? _____

36 Rúmdin á kubbanum er _____

37 Allur yvirflatin er _____



Skriva sum brot:

NOK (norskar krónur): 93,70

38 70% = _____

40 1000 NOK = _____ kr

39 0,6 = _____

41 468,50 kr = _____ NOK

42 $98,45 + 1,8$ = _____

44 $10^3 + 10 + 10^2$ = _____

43 $6,75 - 3,9$ = _____

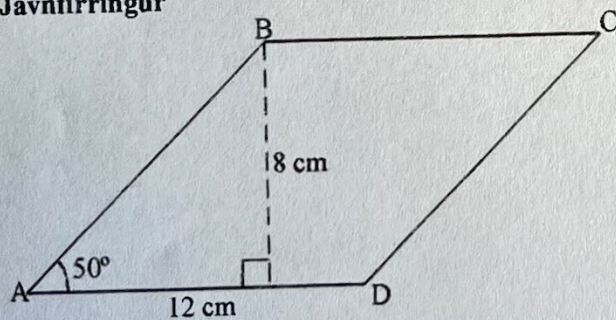
45 $10^3 \cdot 10 \cdot 10^{-3}$ = _____

46 332 min = _____ t _____ min

47 **PLANTUMARGARIN, 400 g 3,50 KR**

1 kg kostar _____ kr

Javnfirringur



48 $\angle B$ er _____ °

Vidd: $h \cdot g$

49 Viddin á javnfirringinum er _____ cm^2

50 Strika 35% av skapinum høgrumegin.

